



Zahlenstrahl: Welche Rechnung zeigt der Sprung?

MA.1.C.1 1. Klasse - 2. Klasse

NAME _____ DATUM _____

SO FUNKTIONIERT ES

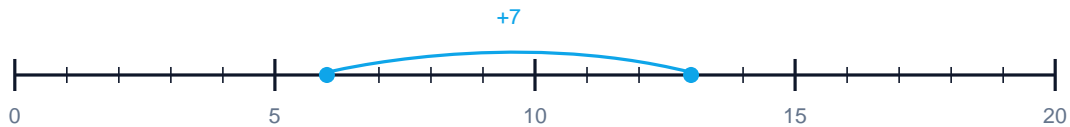
Der blaue Bogen über dem Zahlenstrahl zeigt einen Sprung. Welche Plus-Aufgabe steckt dahinter? Schreibe die ganze Rechnung mit Ergebnis.

1 Welche Rechnung zeigt der Sprung?



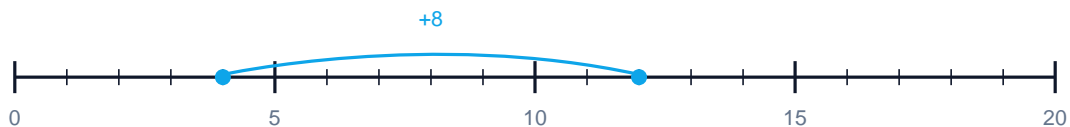
$$\boxed{} + \boxed{} = \boxed{}$$

2 Welche Rechnung zeigt der Sprung?



$$\boxed{} + \boxed{} = \boxed{}$$

3 Welche Rechnung zeigt der Sprung?



$$\boxed{} + \boxed{} = \boxed{}$$



Lösungen

Zahlenstrahl: Welche Rechnung zeigt der Sprung?

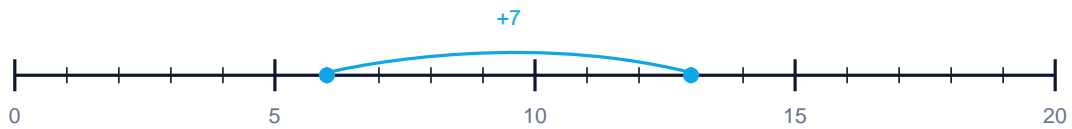
Mittel ● ●

1 Welche Rechnung zeigt der Sprung?



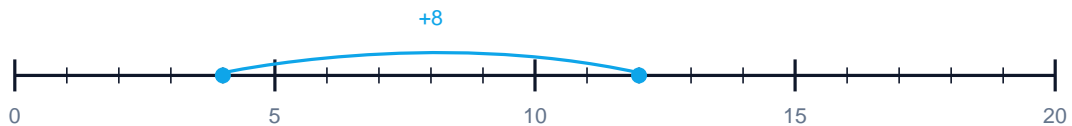
$$3 + 5 = 8$$

2 Welche Rechnung zeigt der Sprung?



$$6 + 7 = 13$$

3 Welche Rechnung zeigt der Sprung?



$$4 + 8 = 12$$