



Zahlenstrahl bis 20 — grosse Sprünge

Schwierig ● ● ●

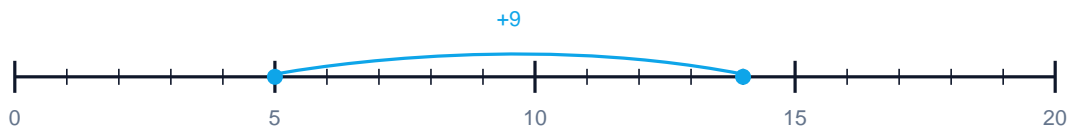
MA.1.C.1 1. Klasse · 2. Klasse

NAME _____ DATUM _____

SO FUNKTIONIERT ES

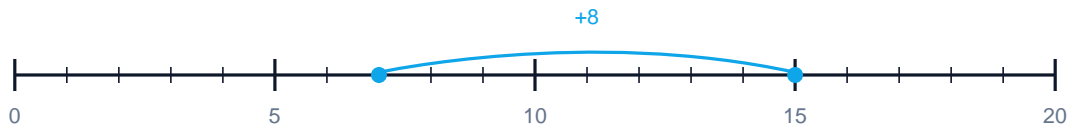
Der blaue Bogen über dem Zahlenstrahl zeigt einen Sprung. Welche Plus-Aufgabe steckt dahinter? Schreibe die ganze Rechnung mit Ergebnis.

1 Welche Rechnung zeigt der Sprung?



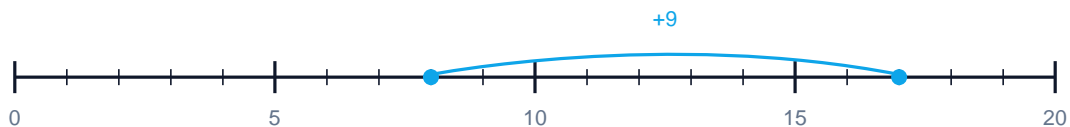
$$\boxed{} + \boxed{} = \boxed{}$$

2 Welche Rechnung zeigt der Sprung?



$$\boxed{} + \boxed{} = \boxed{}$$

3 Welche Rechnung zeigt der Sprung?



$$\boxed{} + \boxed{} = \boxed{}$$

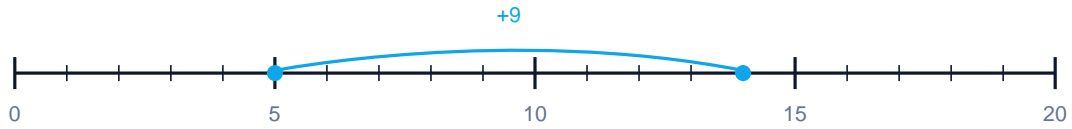


Lösungen

Zahlenstrahl bis 20 — grosse Sprünge

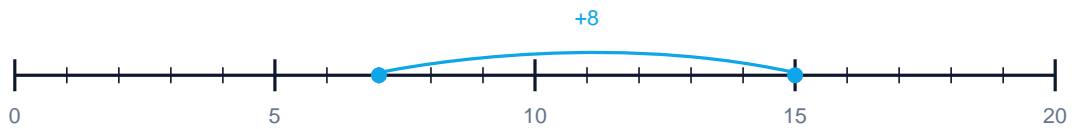
Schwierig ●●●

1 Welche Rechnung zeigt der Sprung?



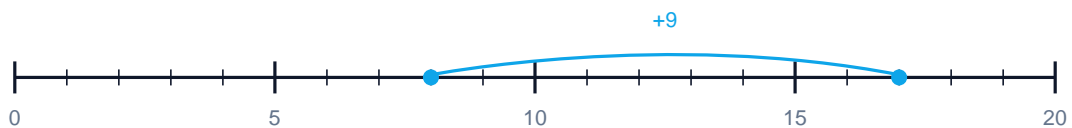
$$5 + 9 = 14$$

2 Welche Rechnung zeigt der Sprung?



$$7 + 8 = 15$$

3 Welche Rechnung zeigt der Sprung?



$$8 + 9 = 17$$