



# Zahlenstrahl bis 10 — kleine Sprünge

Leicht ●

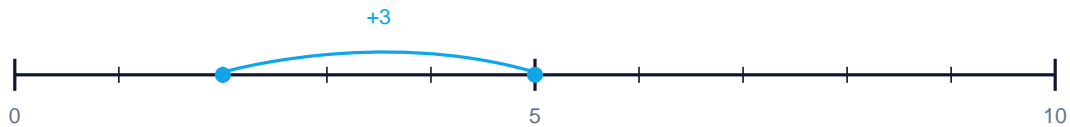
MA.1.C.1 1. Klasse · 2. Klasse

NAME \_\_\_\_\_ DATUM \_\_\_\_\_

## SO FUNKTIONIERT ES

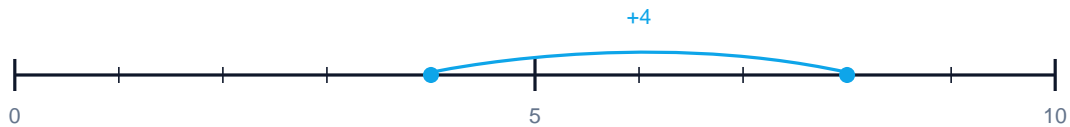
Der blaue Bogen über dem Zahlenstrahl zeigt einen Sprung. Welche Plus-Aufgabe steckt dahinter? Schreibe die ganze Rechnung mit Ergebnis.

1 Welche Rechnung zeigt der Sprung?



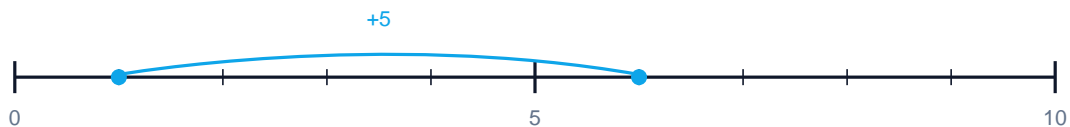
$$\boxed{\phantom{00}} + \boxed{\phantom{00}} = \boxed{\phantom{00}}$$

2 Welche Rechnung zeigt der Sprung?



$$\boxed{\phantom{00}} + \boxed{\phantom{00}} = \boxed{\phantom{00}}$$

3 Welche Rechnung zeigt der Sprung?



$$\boxed{\phantom{00}} + \boxed{\phantom{00}} = \boxed{\phantom{00}}$$

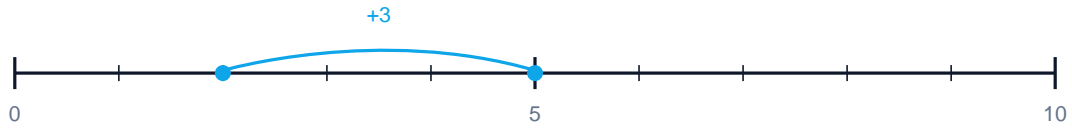


# Lösungen

Zahlenstrahl bis 10 — kleine Sprünge

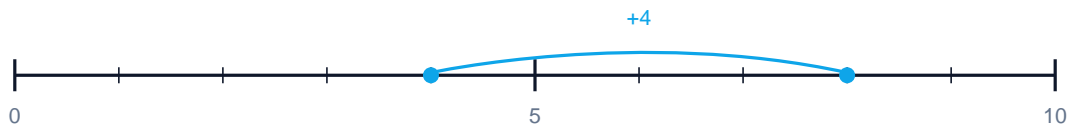
Leicht ●

1 Welche Rechnung zeigt der Sprung?



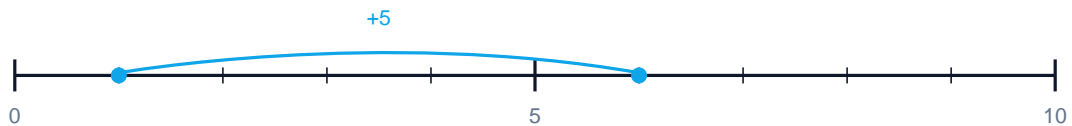
$$\boxed{2} + \boxed{3} = \boxed{5}$$

2 Welche Rechnung zeigt der Sprung?



$$\boxed{4} + \boxed{4} = \boxed{8}$$

3 Welche Rechnung zeigt der Sprung?



$$\boxed{1} + \boxed{5} = \boxed{6}$$