



Zahlen im Hunderterfeld — bis 100

Schwierig ● ● ●

MA.1.A.1 2. Klasse

NAME _____ DATUM _____

SO FUNKTIONIERT ES

Im Hunderterfeld sind Felder gefüllt. Welche Zahl ist das? Bei den späteren Aufgaben schreibst du auch Zehner und Einer getrennt.

1

2

3

Z E =

4

Z E =




Lösungen

Zahlen im Hunderterfeld — bis 100


Schwierig ●●●

1




78

2



89

3



9

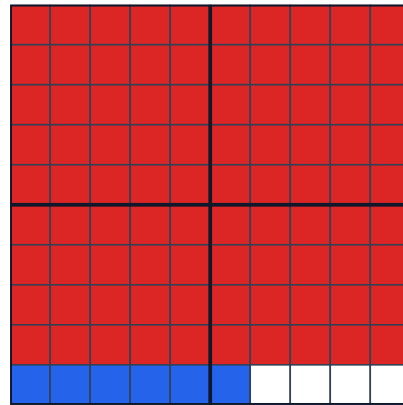
+

4

=

94

4



9

+

6

=

96