



Zahlen im Hunderterfeld — bis 50

Leicht ●

MA.1.A.1 2. Klasse

NAME _____ DATUM _____

SO FUNKTIONIERT ES

Im Hunderterfeld sind Felder gefüllt. Welche Zahl ist das? Bei den späteren Aufgaben schreibst du auch Zehner und Einer getrennt.

1

2

3

Z E =

4

Z E =




Lösungen

Zahlen im Hunderterfeld — bis 50


Leicht ●

1



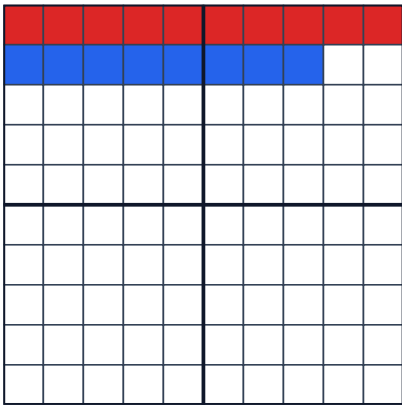
12

2



25

3



1


z

8

E =

18

4



4

z

3

E =

43