



# Würfelbilder vergleichen

Mittel ● ●




MA.1.A.1 1. Klasse




NAME \_\_\_\_\_ DATUM \_\_\_\_\_




### SO FUNKTIONIERT ES




Welcher Würfel hat mehr Augen? Schreibe das Zeichen  $<$ ,  $>$  oder  $=$  in das Kästchen zwischen den beiden Würfeln.




$<$  kleiner     $>$  grösser     $=$  gleich




1   




2   




3   




4   

5   




6   




7   

8   

9   

10   

11   

12   



# Lösungen

Würfelbilder vergleichen

Mittel ● ●

< kleiner > grösser = gleich

1




2



3



4



5



6



7



8



9



10



11



12

