



Würfelbilder vergleichen — knappe Unterschiede Schwierig




MA.1.A.1 1. Klasse



NAME _____ DATUM _____




SO FUNKTIONIERT ES




Welcher Würfel hat mehr Augen? Schreibe das Zeichen $<$, $>$ oder $=$ in das Kästchen zwischen den beiden Würfeln.




$<$ kleiner $>$ grösser $=$ gleich


1   




2   




3   




4   


5   




6   




7   

8   

9   

10   

11   

12   



Lösungen

Würfelbilder vergleichen — knappe Unterschiede

Schwierig ●●●

< kleiner > grösser = gleich

