



Würfelbilder vergleichen — klare Unterschiede Lehrt

MA.1.A.1 1. Klasse




NAME _____ DATUM _____




SO FUNKTIONIERT ES




Welcher Würfel hat mehr Augen? Schreibe das Zeichen $<$, $>$ oder $=$ in das Kästchen zwischen den beiden Würfeln.

$<$ kleiner $>$ grösser $=$ gleich




1   




2   



3   

4   




5   




6   




7   

8   

9   

10   

11   

12   



Lösungen

Würfelbilder vergleichen — klare Unterschiede

Leicht ●

< kleiner > grösser = gleich

1




2



3



4



5



6



7



8



9



10



11



12

