



Würfelbilder addieren

Mittel ● ●

MA.1.A.3 1. Klasse

NAME _____ DATUM _____

SO FUNKTIONIERT ES

Du siehst zwei Würfel. Zähle die Augen von beiden zusammen und schreibe das Ergebnis in das Kästchen.

1 + =

2 + =

3 + =

4 + =

5 + =

6 + =

7 + =

8 + =

9 + =

10 + =

11 + =



12 + =







Lösungen



Würfelbilder addieren



Mittel ● ●



1  +  = 7



2  +  = 11



3  +  = 7

4  +  = 12



5  +  = 8



6  +  = 8



7  +  = 8

8  +  = 9

9  +  = 7

10  +  = 9

11  +  = 10

12  +  = 10