



Lernland — Mathe-Arbeitsblätter

Alle Aufgaben und Lösungen im Überblick

1.	Zahlenstrahl bis 10 — kleine Sprünge	●	LL-014A
2.	Zahlenstrahl: Welche Rechnung zeigt der Sprung?	● ●	LL-014B
3.	Zahlenstrahl bis 20 — grosse Sprünge	● ● ●	LL-014C



Zahlenstrahl bis 10 — kleine Sprünge

Leicht ●

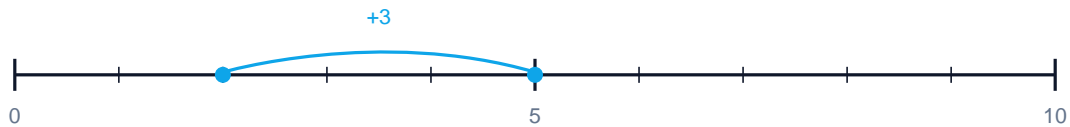
MA.1.C.1 1. Klasse · 2. Klasse

NAME _____ DATUM _____

SO FUNKTIONIERT ES

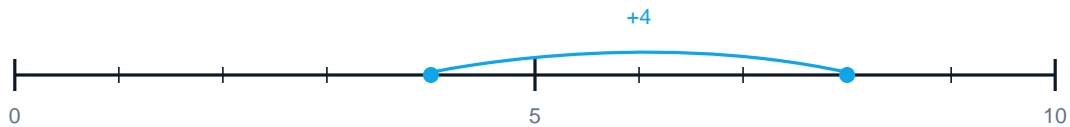
Der blaue Bogen über dem Zahlenstrahl zeigt einen Sprung. Welche Plus-Aufgabe steckt dahinter? Schreibe die ganze Rechnung mit Ergebnis.

1 Welche Rechnung zeigt der Sprung?



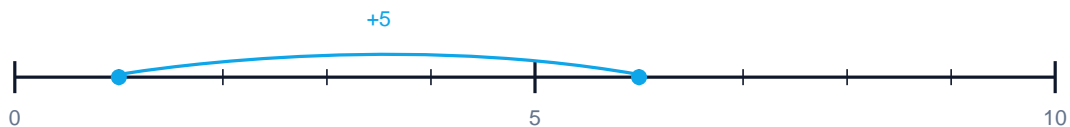
$$\boxed{} + \boxed{} = \boxed{}$$

2 Welche Rechnung zeigt der Sprung?



$$\boxed{} + \boxed{} = \boxed{}$$

3 Welche Rechnung zeigt der Sprung?



$$\boxed{} + \boxed{} = \boxed{}$$



Zahlenstrahl: Welche Rechnung zeigt der Sprung?

MA.1.C.1 1. Klasse - 2. Klasse

NAME _____ DATUM _____

SO FUNKTIONIERT ES

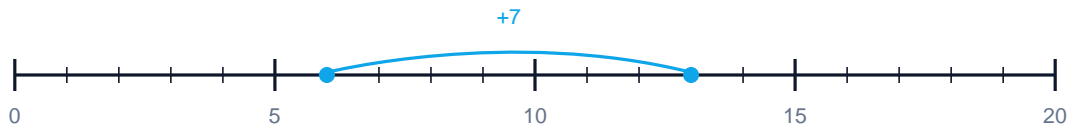
Der blaue Bogen über dem Zahlenstrahl zeigt einen Sprung. Welche Plus-Aufgabe steckt dahinter? Schreibe die ganze Rechnung mit Ergebnis.

1 Welche Rechnung zeigt der Sprung?



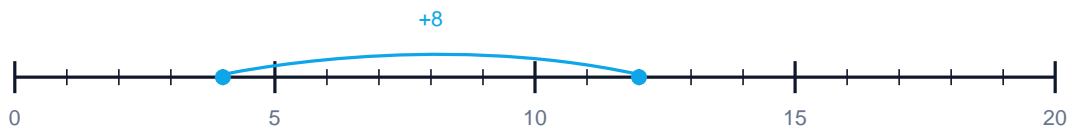
+ =

2 Welche Rechnung zeigt der Sprung?



+ =

3 Welche Rechnung zeigt der Sprung?



+ =



Zahlenstrahl bis 20 — grosse Sprünge

Schwierig ● ● ●

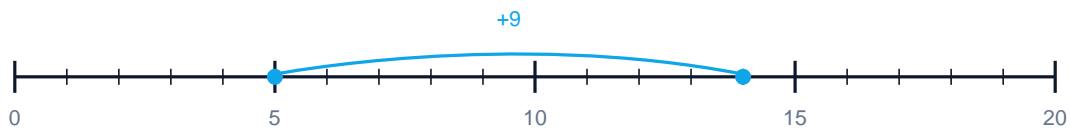
MA.1.C.1 1. Klasse · 2. Klasse

NAME _____ DATUM _____

SO FUNKTIONIERT ES

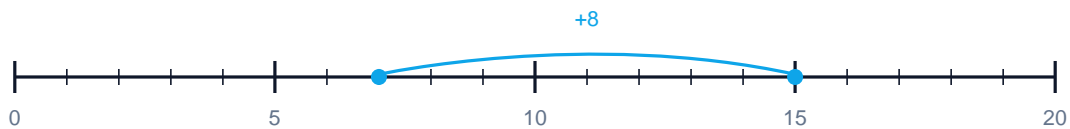
Der blaue Bogen über dem Zahlenstrahl zeigt einen Sprung. Welche Plus-Aufgabe steckt dahinter? Schreibe die ganze Rechnung mit Ergebnis.

1 Welche Rechnung zeigt der Sprung?



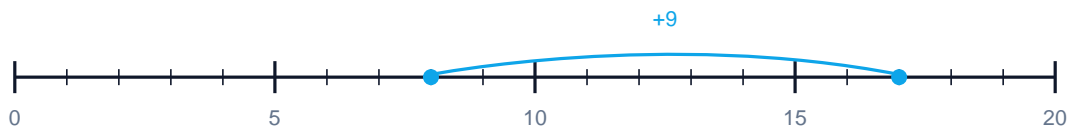
$$\boxed{} + \boxed{} = \boxed{}$$

2 Welche Rechnung zeigt der Sprung?



$$\boxed{} + \boxed{} = \boxed{}$$

3 Welche Rechnung zeigt der Sprung?



$$\boxed{} + \boxed{} = \boxed{}$$



Lösungen

Alle Lösungen in der gleichen Reihenfolge

1.	Zahlenstrahl bis 10 — kleine Sprünge		LL-014A
2.	Zahlenstrahl: Welche Rechnung zeigt der Sprung?	 	LL-014B
3.	Zahlenstrahl bis 20 — grosse Sprünge	  	LL-014C

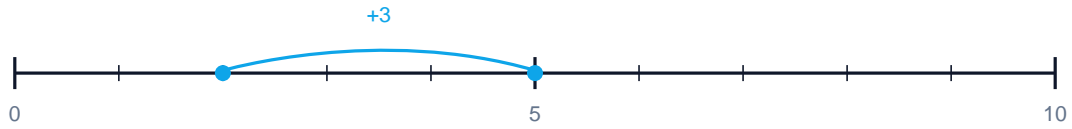


Lösungen

Zahlenstrahl bis 10 — kleine Sprünge

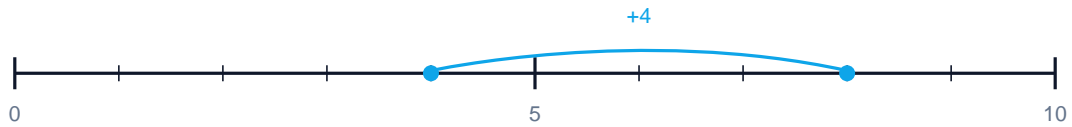
Leicht ●

1 Welche Rechnung zeigt der Sprung?



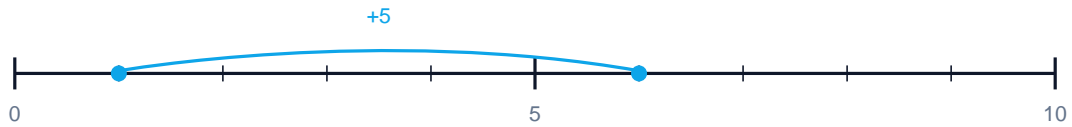
$$\boxed{2} + \boxed{3} = \boxed{5}$$

2 Welche Rechnung zeigt der Sprung?



$$\boxed{4} + \boxed{4} = \boxed{8}$$

3 Welche Rechnung zeigt der Sprung?



$$\boxed{1} + \boxed{5} = \boxed{6}$$



Lösungen

Zahlenstrahl: Welche Rechnung zeigt der Sprung?

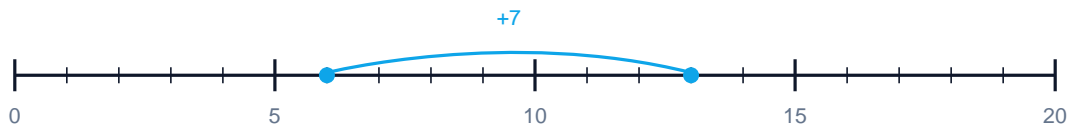
Mittel ● ●

1 Welche Rechnung zeigt der Sprung?



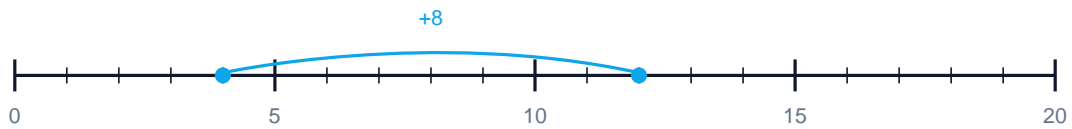
$$3 + 5 = 8$$

2 Welche Rechnung zeigt der Sprung?



$$6 + 7 = 13$$

3 Welche Rechnung zeigt der Sprung?



$$4 + 8 = 12$$

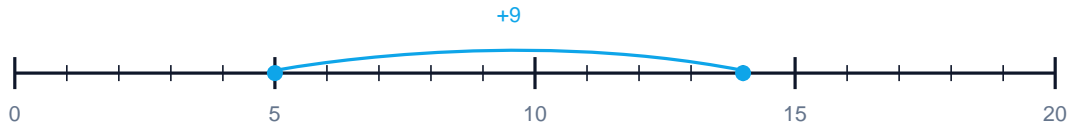


Lösungen

Zahlenstrahl bis 20 — grosse Sprünge

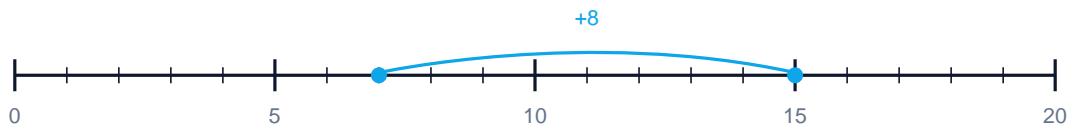
Schwierig ●●●

1 Welche Rechnung zeigt der Sprung?



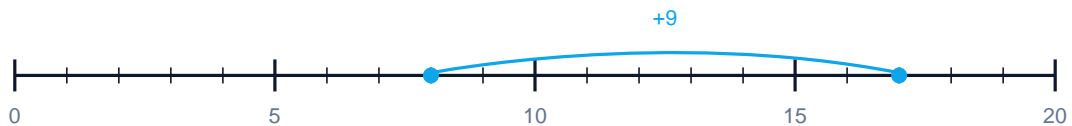
$$5 + 9 = 14$$

2 Welche Rechnung zeigt der Sprung?



$$7 + 8 = 15$$

3 Welche Rechnung zeigt der Sprung?



$$8 + 9 = 17$$