



Lernland — Mathe-Arbeitsblätter

Alle Aufgaben und Lösungen im Überblick

1.	Mengen bis 5 erfassen	●	LL-001A
2.	Würfelbilder vergleichen — klare Unterschiede	●	LL-011A
3.	Mengen bis 15 erfassen	● ●	LL-001B
4.	Würfelbilder vergleichen	● ●	LL-011B
5.	Mengen bis 20 erfassen	● ● ●	LL-001C
6.	Würfelbilder vergleichen — knappe Unterschiede	● ● ●	LL-011C



Mengen bis 5 erfassen

Leicht ●

MA.1.A.1 1. Klasse

NAME _____ DATUM _____

SO FUNKTIONIERT ES

Schau die Punkte kurz an, ohne zu zählen. Wie viele sind es? Schreibe die Zahl in das Kästchen.

1

● ●

□

2

● ● ● ●

□

3

● ● ●

□

4

● ● ● ● ●

□

5

●

□

6

● ● ● ●

□

7

● ● ●

□

8

● ●

□

9

● ● ● ● ●

□



Würfelbilder vergleichen — klare Unterschiede Lehrt



MA.1.A.1 1. Klasse




NAME _____ DATUM _____




SO FUNKTIONIERT ES




Welcher Würfel hat mehr Augen? Schreibe das Zeichen $<$, $>$ oder $=$ in das Kästchen zwischen den beiden Würfeln.

$<$ kleiner $>$ grösser $=$ gleich




1   




2   




3   

4   




5   




6   




7   

8   

9   

10   

11   

12   



Mengen bis 15 erfassen

Mittel ● ●

MA.1.A.1 1. Klasse

NAME _____ DATUM _____

SO FUNKTIONIERT ES

Schau die Punkte kurz an, ohne zu zählen. Wie viele sind es? Schreibe die Zahl in das Kästchen.

1

● ● ●

□

2

● ● ● ● ●

□

3

● ● ● ● ●
● ●

□

4

● ● ● ● ●
● ● ●

□

5

● ● ● ● ●
● ● ● ● ●

□

6

● ● ● ● ●
●

□

7

● ● ● ● ●
● ● ● ● ●
● ●

□

8

● ● ● ● ●
● ● ● ●

□

9

● ● ● ● ●
● ● ● ● ●
● ● ● ● ●

□



Würfelbilder vergleichen

Mittel ● ●




MA.1.A.1 1. Klasse




NAME _____ DATUM _____




SO FUNKTIONIERT ES




Welcher Würfel hat mehr Augen? Schreibe das Zeichen $<$, $>$ oder $=$ in das Kästchen zwischen den beiden Würfeln.




$<$ kleiner $>$ grösser $=$ gleich




1   




2   




3   




4   

5   




6   




7   

8   

9   

10   

11   

12   



Mengen bis 20 erfassen

Schwierig ●●●

MA.1.A.1 1. Klasse

NAME _____ DATUM _____

SO FUNKTIONIERT ES

Schau die Punkte kurz an, ohne zu zählen. Wie viele sind es? Schreibe die Zahl in das Kästchen.

1

2

3

4

5

6

7

8

9



Würfelbilder vergleichen — knappe Unterschiede Schwierig




MA.1.A.1 1. Klasse




NAME _____ DATUM _____




SO FUNKTIONIERT ES




Welcher Würfel hat mehr Augen? Schreibe das Zeichen $<$, $>$ oder $=$ in das Kästchen zwischen den beiden Würfeln.




$<$ kleiner $>$ grösser $=$ gleich




1   




2   




3   




4   




5   




6   




7   

8   

9   

10   

11   

12   



Lösungen

Alle Lösungen in der gleichen Reihenfolge

1.	Mengen bis 5 erfassen	●	LL-001A
2.	Würfelbilder vergleichen — klare Unterschiede	●	LL-011A
3.	Mengen bis 15 erfassen	● ●	LL-001B
4.	Würfelbilder vergleichen	● ●	LL-011B
5.	Mengen bis 20 erfassen	● ● ●	LL-001C
6.	Würfelbilder vergleichen — knappe Unterschiede	● ● ●	LL-011C




Lösungen

Mengen bis 5 erfassen


Leicht ●

1




2

2




4

3




3

4




5

5




1

6




4

7




3

8



2

9



5



Lösungen

Würfelbilder vergleichen — klare Unterschiede

Leicht ●

< kleiner > grösser = gleich

1




2



3




4



5




6



7



8



9




10



11



12






Lösungen

Mengen bis 15 erfassen


Mittel ● ●

1




3

2




5

3




7

4




8

5




10

6




6

7




12

8



9

9



15



Lösungen

Würfelbilder vergleichen

Mittel ● ●

< kleiner > grösser = gleich






Lösungen

Mengen bis 20 erfassen


Schwierig ●●●

1




11

2




14

3




17

4




19

5




13

6




16

7




18

8



20

9



15



Lösungen

Würfelbilder vergleichen — knappe Unterschiede

Schwierig ●●●

< kleiner > grösser = gleich

