



Lernland — Mathe-Arbeitsblätter

Alle Aufgaben und Lösungen im Überblick

1.	Brüche einfärben — Stammbrüche	●	LL-016A
2.	Brüche einfärben	● ●	LL-016B
3.	Brüche einfärben — komplexe Bruchteile	● ● ●	LL-016C



Brüche einfärben — Stammbrüche

Leicht ●

MA.1.C.2 4. Klasse · 5. Klasse

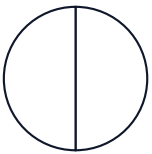
NAME _____

DATUM _____

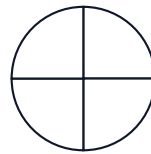
SO FUNKTIONIERT ES

Färbe den angegebenen Anteil im Kreis und im Rechteck. Beide Modelle zeigen denselben Bruch.

1 Färbe $\frac{1}{2}$



2 Färbe $\frac{1}{4}$



3 Färbe $\frac{1}{3}$



4 Färbe $\frac{1}{5}$



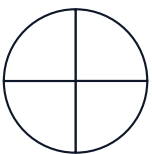
5 Färbe $\frac{1}{6}$



6 Färbe $\frac{1}{8}$



7 Färbe $\frac{2}{4}$



8 Färbe $\frac{3}{6}$





Brüche einfärben

Mittel ● ●

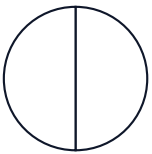
MA.1.C.2 4. Klasse · 5. Klasse

NAME _____ DATUM _____

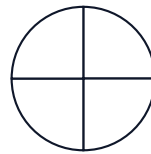
SO FUNKTIONIERT ES

Färbe den angegebenen Anteil im Kreis und im Rechteck. Beide Modelle zeigen denselben Bruch.

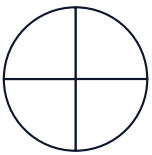
1 Färbe $\frac{1}{2}$



2 Färbe $\frac{1}{4}$



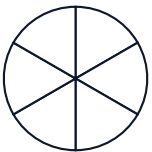
3 Färbe $\frac{3}{4}$



4 Färbe $\frac{2}{3}$



5 Färbe $\frac{4}{6}$



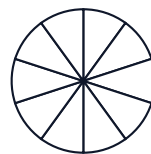
6 Färbe $\frac{3}{5}$



7 Färbe $\frac{5}{8}$



8 Färbe $\frac{7}{10}$





Brüche einfärben — komplexe Bruchteile

Schwierig ● ● ●

MA.1.C.2 4. Klasse · 5. Klasse

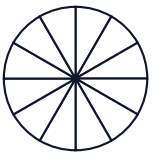
NAME _____

DATUM _____

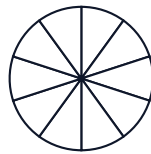
SO FUNKTIONIERT ES

Färbe den angegebenen Anteil im Kreis und im Rechteck. Beide Modelle zeigen denselben Bruch.

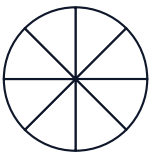
1 Färbe $7/12$



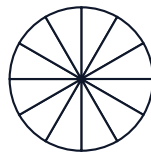
2 Färbe $3/10$



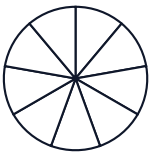
3 Färbe $7/8$



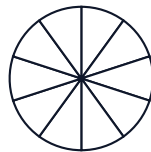
4 Färbe $5/12$



5 Färbe $4/9$



6 Färbe $9/10$



7 Färbe $11/12$



8 Färbe $3/8$





Lösungen

Alle Lösungen in der gleichen Reihenfolge

1.	Brüche einfärben — Stammbrüche	●	LL-016A
2.	Brüche einfärben	● ●	LL-016B
3.	Brüche einfärben — komplexe Bruchteile	● ● ●	LL-016C

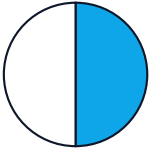


Lösungen

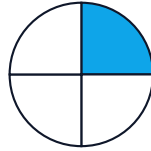
Brüche einfärben — Stammbrüche

Leicht ●

1 Färbe $1/2$



2 Färbe $1/4$



3 Färbe $1/3$



4 Färbe $1/5$



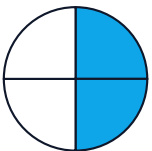
5 Färbe $1/6$



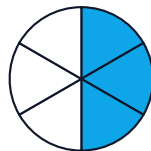
6 Färbe $1/8$



7 Färbe $2/4$



8 Färbe $3/6$



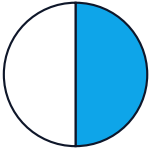


Lösungen

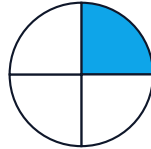
Brüche einfärben

Mittel ● ●

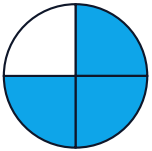
1 Färbe $1/2$




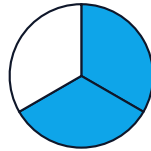
2 Färbe $1/4$



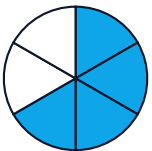
3 Färbe $3/4$



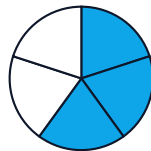
4 Färbe $2/3$



5 Färbe $4/6$



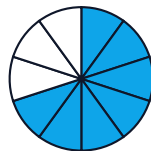
6 Färbe $3/5$



7 Färbe $5/8$



8 Färbe $7/10$



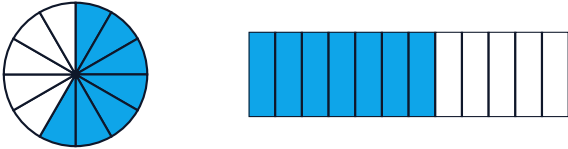


Lösungen

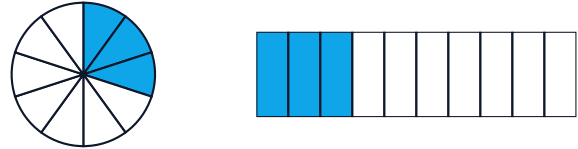
Brüche einfärben — komplexe Bruchteile

Schwierig ●●●

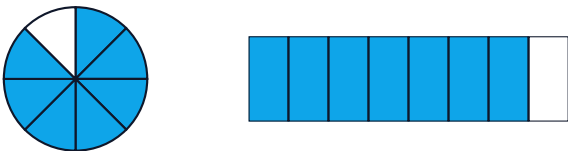
1 Färbe $7/12$



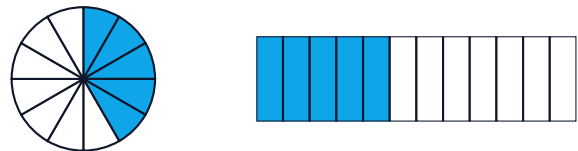
2 Färbe $3/10$



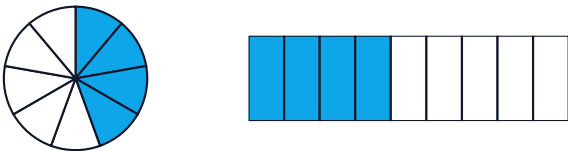
3 Färbe $7/8$



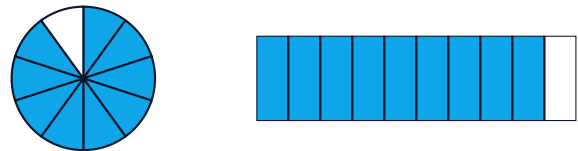
4 Färbe $5/12$



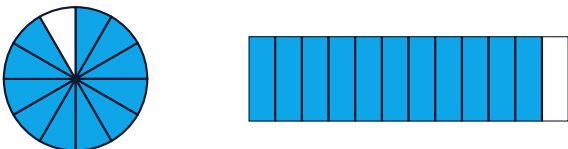
5 Färbe $4/9$



6 Färbe $9/10$



7 Färbe $11/12$



8 Färbe $3/8$

