



Punktebilder addieren

Mittel ● ●

MA.1.A.3 1. Klasse

NAME _____

DATUM _____

SO FUNKTIONIERT ES


Schau die Punktebilder an. Zähle die Punkte zusammen und schreibe das Ergebnis in das Kästchen.

1  +  =


2  +  =


3  +  =

4  +  =



5  +  =

6  +  =

7  +  =

8  +  =

9  +  =

10  +  =

11  +  =



12  +  =







Lösungen



Punktebilder addieren



Mittel ● ●



1  +  =



2  +  =



3  +  =



4  +  =



5  +  =



6  +  =



7  +  =

8  +  =

9  +  =

10  +  =

11  +  =

12  +  =