



Punktebilder addieren — bis 15

Schwierig ●●●

MA.1.A.3 1. Klasse

NAME _____

DATUM _____

SO FUNKTIONIERT ES



Schau die Punktebilder an. Zähle die Punkte zusammen und schreibe das Ergebnis in das Kästchen.

1  +  =


2  +  =


3  +  =

4  +  =


5  +  =

6  +  =

7  +  =

8  +  =

9  +  =

10  +  =

11  +  =



12  +  =







Lösungen



Punktebilder addieren — bis 15

Schwierig ●●●



1  +  = 13



2  +  = 13



3  +  = 13



4  +  = 13



5  +  = 15



6  +  = 14



7  +  = 15

8  +  = 14

9  +  = 14

10  +  = 14

11  +  = 15

12  +  = 14