



Plus im 20er-Feld

Mittel ● ●

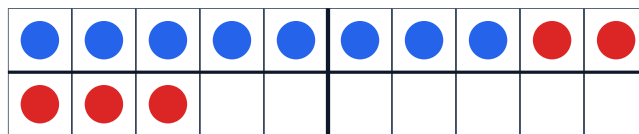
MA.1.A.3 1. Klasse · 2. Klasse

NAME _____ DATUM _____

SO FUNKTIONIERT ES

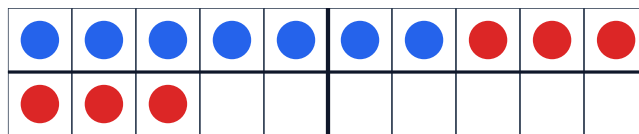
Im 20er-Feld siehst du blaue und rote Punkte. Zähle sie und schreibe die Rechnung unter das Feld.

1



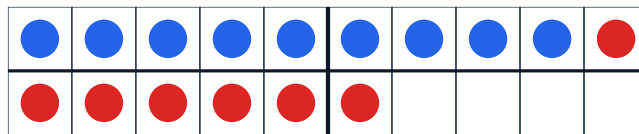
8 + 5 =

2



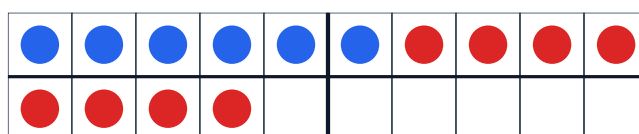
7 + 6 =

3



+ =

4



+ =

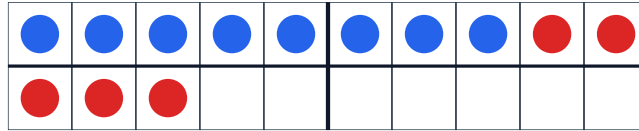


Lösungen

Plus im 20er-Feld

Mittel ● ●

1



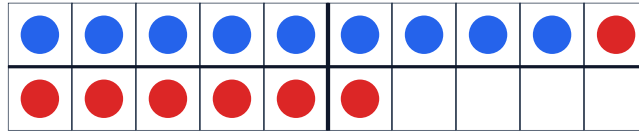
$$8 + 5 = 13$$

2



$$7 + 6 = 13$$

3



$$9 + 7 = 16$$

4



$$6 + 8 = 14$$