



Drei Würfel addieren — kleine Zahlen

Leicht ●

MA.1.A.3 1. Klasse · 2. Klasse

NAME _____

DATUM _____

SO FUNKTIONIERT ES

Zähle die Augen von allen drei Würfeln zusammen und schreibe das Ergebnis in das Kästchen.

1 $\square + \square + \square = \square$

2 $\square + \square + \square = \square$

3 $\square + \square + \square = \square$

4 $\square + \square + \square = \square$

5 $\square + \square + \square = \square$

6 $\square + \square + \square = \square$

7 $\square + \square + \square = \square$

8 $\square + \square + \square = \square$

9 $\square + \square + \square = \square$

10 $\square + \square + \square = \square$

11 $\square + \square + \square = \square$





12 $\square + \square + \square = \square$











Lösungen





Drei Würfel addieren — kleine Zahlen





Leicht ●





1  +  +  = 

2  +  +  = 





3  +  +  = 

4  +  +  = 





5  +  +  = 





6  +  +  = 




7  +  +  = 

8  +  +  = 

9  +  +  = 

10  +  +  = 

11  +  +  = 

12  +  +  = 