



Brüche einfärben — Stammbrüche

Leicht ●

MA.1.C.2 4. Klasse · 5. Klasse

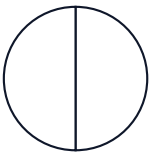
NAME _____

DATUM _____

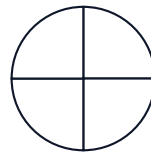
SO FUNKTIONIERT ES

Färbe den angegebenen Anteil im Kreis und im Rechteck. Beide Modelle zeigen denselben Bruch.

1 Färbe $\frac{1}{2}$



2 Färbe $\frac{1}{4}$



3 Färbe $\frac{1}{3}$



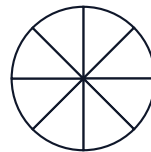
4 Färbe $\frac{1}{5}$



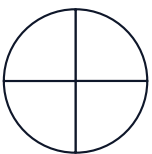
5 Färbe $\frac{1}{6}$



6 Färbe $\frac{1}{8}$



7 Färbe $\frac{2}{4}$



8 Färbe $\frac{3}{6}$



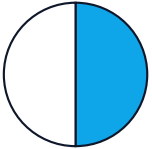


Lösungen

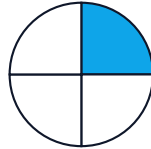
Brüche einfärben — Stammbrüche

Leicht ●

1 Färbe $1/2$



2 Färbe $1/4$



3 Färbe $1/3$



4 Färbe $1/5$



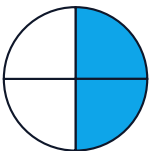
5 Färbe $1/6$



6 Färbe $1/8$



7 Färbe $2/4$



8 Färbe $3/6$

